

Mustafa AYGÜN

Büşra TAHİROĞLU

TÜRKÇE

LOGS

4. DENEME

ADI VE SOYADI

OKUL ADI

ADAYIN İMZASI



Denemenin cevap anahtarına QR kodu okutarak turkcedersi.net sitemizden ulaşabilirsiniz.

4. DENEME

1. Bu testte Türkçe alanına ait 20 soru bulunmaktadır.
2. Cevap anahtarına ulaşmak için giriş sayfasındaki QR kodu okutabilirsiniz.

1. ✓ Kardeşimin ayakkabılarına ayaklarım bir türlü girmiyor.
✓ Kalan tek dersim için bütünleme sınavına gireceğim.
✓ Sakinleşmesini beklediğim için bir türlü konuya giremedim.

“Girmek” sözcüğü bu cümlelerde aşağıdaki anlamlarından hangisiyle kullanılmamıştır?

- A) Bulaşmak B) Girişmek, başlamak
C) Sığınmak D) Katılmak

2. Kültürümüzde “dinlemek” önemlidir. Atalarımız “Az söyle, çok dinle.” ya da “Bir söyle, on dinle.” gibi atasözlerinde bunu vurgulamıştır. Dinlemek ifadesinin geçtiği pek çok deyim de bulunmaktadır. Deyimler durum bildiren söz grupları oldukları için bu ifadeler genellikle dinleme işinin nasıl yapıldığını anlatmıştır. Örneğin “çok dikkatli dinlemek” anlamında cankulağı

I

ile dinlemek, “hiçbir şey anlamadan dinlemek” anlamında koyun kaval dinler gibi dinlemek, “konuşulan-

II

ları gizli gizli sezdirmeden dinlemek” anlamında söz dinlemek ve “umursamadan, önem vermeden dinle-

III

mek” anlamında yarım kulak dinlemek gibi deyimler

IV

kullanılır.

Bu metinde numaralanmış deyimlerden hangisinin açıklaması yanlış verilmiştir?

- A) I B) II C) III D) IV

3. (I) Uzaydaki bir cismin başka bir cisim çevresinde izlediği düzenli ve tekrar eden yola “yörünge” denir. (II) Yörüngeler elips biçiminde olduğu için hareket hâlindeki cisim, merkezdeki cisme yörünge boyunca yaklaşıp ondan uzaklaşabilir. (III) Bazı gezegenlerin yörüngeleri çembere yakın bir elipse benzerken kuyruklu yıldızların yörüngeleri sanki bastırılmış gibi ince ve uzun bir elips biçimindedir. (IV) Uydu cismin merkezde bulunan cisim çevresindeki yörüngesinde bir kez tam tur atıp hareketini tamamlaması için geçen süreye “yörünge süresi” denir.

Bu metinde numaralanmış cümlelerden hangisi neden-sonuç cümlesidir?

- A) I B) II C) III D) IV

4. Eskiden gece gökyüzüne baktığımızda Ay, parlak yıldızlar ve Güneş sistemindeki gezegenler dikkatimizi çekerdi ancak son zamanlarda Dünya'nın yörüngesine o kadar çok uydu gönderildi ki artık gece gökyüzünde çok sayıda yapay uydu görmeye başladık.

Bu cümleden aşağıdaki yargılardan hangisi kesin olarak çıkarılamaz?

- A) Eskiden gök cisimleri insanların daha çok dikkatini çekerdi.
B) Son zamanlarda Dünya'nın yörüngesine çok uydu gönderilmiştir.
C) Günümüzde gökyüzündeki yapay uyduların sayısı artmıştır.
D) Eskiden insanlar gece gökyüzünde sadece doğal gök cisimlerini görürdü.

5. Artık gün bayağı aydınlandı, şimdi her gün yaptığı işlere bugün de başlama vakti gelmişti. Özenle işe koyuluyor, camdan havanın iyi olup olmadığına bakıyor, suyun ısısını ayarlıyor, ocağı yakıyordu. Kahvesini hazırlayıp önce kokluyor, ardından içiyordu. Gün içerisinde yapacak çok işi vardı. Nereden başlayacağını bilemiyordu. Üç yıl öncesine dönmeyi hayal etti. Acaba şimdiki akli olsa bu kadar yoğun bir işe başlar mıydı? Kesinlikle başlamazdım diye düşündü.

Bu metnin dil ve anlatımıyla ilgili aşağıdakilerden hangisi söylenemez?

- A) Hayal ürünü ifadeler bulunmaktadır.
- B) Farklı duyulara hitap etmektedir.
- C) Öyküleyici bir anlatım vardır.
- D) Anlatım 3. kişi ağızyla yapılmıştır.

6. İnsanların asıl işlerinin dışında sivil toplum örgütlerinde, yardım kuruluşlarında ya da topluma yararlı kurumlarda yürüttükleri gönüllü çalışmalar hem toplumda dayanışma kültürünü geliştirir hem de bireye önemli katkılar sunar. Bir projeye zaman ve emek ayıran kişinin yardımlaşma bilinci pekişir. Bunun yanında empati becerisi de artar. Bazı araştırmalar düzenli gönüllü faaliyetlerde bulunan bireylerin sosyal çevrelerinin genişlediğini ve yaşam doyumlarının yükseldiğini göstermiştir.

Bu metnin ana fikri aşağıdakilerden hangisidir?

- A) Gönüllü çalışmalar hem bireye hem topluma faydalıdır.
- B) Gönüllü çalışma yapanlar kendi işlerine zaman ayıramaz.
- C) Gönüllü çalışmaları devletlerin desteklemesi gerekir.
- D) Sadece zamanı olanlar gönüllü çalışmalar yürütmelidir.

7. Dostluk; zamanla gelişen, emek isteyen ve karşılıklı güvene dayanan özel bir ilişkidir. Gerçek dostluk, sadece birlikte gülüp eğlenmek değil; aynı zamanda zorluklar karşısında birbirine sırt dayayabilmeyi de gerektirir. İyi günlerde herkes yanınızda olabilir ancak kötü günlerde hâlâ sizi önemseyen, dinleyen ve size destek olan insanlar gerçek dosttur. Bu yüzden dostluk nicelikle değil, nitelikle ölçülür. Hayat boyunca birçok insanla tanışılır, sohbet edilir, vakit geçirilir fakat içtenlik, sadakat ve samimiyet gibi değerlerle beslenen gerçek dostluklar sayıca çok azdır. Bu özel bağlar zamanla büyür, güçlenir ve insanın en büyük manevi dayanaklarından biri hâline gelir.

Bu metne göre aşağıdakilerden hangisi söylenemez?

- A) Önemli olan dostların sayısı değil, zor zamanlarda yaptıklarıdır.
- B) Dostluk karşılıklı güvene dayanan, emek isteyen bir süreçtir.
- C) Gerçek dostluk sadece keyifli vakit geçirmekten ibaret değildir.
- D) En önemli şey bir insanın dostu ile beraber eğlenebilmesidir.

8. İnternet ortamında birçok kullanıcı, aynı şifreyi yıllarca değiştirmeden kullanmanın risklerini küçüm-süyor. Oysa çevrim içi hesaplara yönelik saldırıların büyük kısmı zayıf veya tekrar eden parolalar üzerinden gerçekleşiyor. Kişisel verilerin kötü niyetli kişilerin eline geçmesi, kimlik hırsızlığından finansal kayıplara kadar uzanan ciddi sonuçlar doğurabilir. Şifre güvenliğini artırmak için uzun, karmaşık ve benzersiz parolalar kullanmak; çok faktörlü kimlik doğrulama sistemlerini etkinleştirmek ve şifre yöneticilerinden yararlanmak hayati önem taşır.

Bu metne göre aşağıdakilerden hangisine ulaşamaz?

- A) Çok faktörlü kimlik doğrulama şifre güvenliği açısından önemlidir.
- B) İnternette tekrar etmeyen, uzun ve karmaşık şifreler kullanılmalıdır.
- C) Tüm hesaplar için aynı şifreyi kullanmak pratik ve mantıklı bir çözümdür.
- D) Şifre güvenliğinin olmaması maddi kayıplara neden olabilir.

9. I. Sitar, geleneksel Hindistan müziğinde en çok kullanılan telli çalgılardan biridir. Uzun saplı bir yapıya sahip olan enstrümanın 18 ile 21 arasında değişen sayıda teli vardır. Ahşap gövdesine eklenen boru, yankılı bir ses çıkarmasını sağlar. Telleri bakır, gümüş gibi metallerden yapılır ve pena ile çalınır.

II. Karnay, Orta Asya'da en çok da Özbekistan'da kullanılan geleneksel bir üflemeli çalgıdır. Yaklaşık 2,5 metre uzunluğundadır. Güçlü bir ses çıkardığı için geçmişte haberleşme ya da duyuru aracı olarak kullanılırdı. Günümüzdeyse özellikle düğünler ve halk şenlikleri gibi kutlamalarda çalınır. Karnay çalınırken genellikle özel kıyafetler giyilir ve müzik aleti yukarı doğru tutulur.

Aşağıdakilerden hangisi bu metinlerde bahsedilen müzik aletlerinin ortak özelliğidir?

- A) Çalanların özel giysiler giymesi
- B) Telli çalgı olmaları
- C) Gövdelerinin ahşap olması
- D) Geleneksel çalgılar olmaları

10. Bir insanın çevresine karşı duyarlı olması toplumsal yaşamın daha sağlıklı işlenmesini sağlar. Dışarıda yüksek sesle konuşmamak, sıraya girmek, çöpleri yere atmamak gibi küçük ama önemli davranışlar herkesin yaşam kalitesini yükseltir. Bu tür alışkanlıklar bireylerin birbirine saygı duymasını ve birbirleriyle empati kurmasını da teşvik eder. Toplumsal nezaket, bireylerin birlikte uyum içinde yaşayabilmesini mümkün kılar. - - -

Bu metnin sonuna düşüncenin akışına göre aşağıdakilerden hangisi getirilemez?

- A) Duyarlı bireylerin çoğalması, daha güvenli ve huzurlu bir toplumun temelini oluşturur.
- B) Bu tür davranışların eksik olduğu toplumlarda yaşamak tüm bireyler açısından çok zordur.
- C) Bu uyumun bozulmadığı toplumda insanlar daha huzurlu bir şekilde hayatlarını devam ettirir.
- D) Toplumsal kurallar hiçbir şekilde insanların bireysel özgürlüğünü kısıtlamamalıdır.

11. Sokağa açılan kemerli kapının önünden Fakir Halit, günün hiçbir saatinde bozulmayan dengeli yürüyüşü ile geçip gitti. İlçenin sayılı zenginlerindendi. Fakir lakabını aşırı cimriliği yüzünden takmışlardı ona. Meteliğinin hesabını bilirdi.

Bu parça aşağıdakilerden hangisiyle devam ettirildiğinde hikâyenin tüm unsurlarına yer verilmiş olur?

- A) Bu hâli etrafında onu seven pek fazla kişinin olmasına neden olmuştu. Genellikle herkes onun yalnız dolaşmasına alıştı.
- B) Mehmet Efendi ile sözleşmişlerdi. Onunla görüşmeye gidiyordu. Saatine baktı. Sekize çeyrek vardı. Adımlarını sıklaştırdı.
- C) Komşusundan pazarda elmanın üç kuruş ucuz olduğunu işitmiş bu yüzden pazara gidiyordu. Ev halkı da onun bu huyundan bıkmıştı.
- D) Fakir Halit fark etmese de evden çıktığından beri bir adam onu takip ediyordu. Adamın görüntüsü hiç tekin değildi. Takip ettiğini de belli etmemeye çalışıyordu.

12. ✓ İklim değişikliği, yeryüzündeki canlıların çoğunu etkileyerek yaşam biçimlerinin değişimine sebep olan bir durumdur.

✓ İklim değişikliğinin en önemli nedeni, sera etkisinin yani atmosferdeki sera gazlarının miktarındaki artıştır.

Bu iki cümlede ifade edilenlerin anlamca doğru bir biçimde birleştirilmiş hâli aşağıdakilerden hangisidir?

- A) Sera etkisinin yani atmosferdeki sera gazlarının miktarının artması sonucu ortaya çıkan iklim değişikliğinin en olumsuz tarafı yeryüzünde bulunan canlıların yaşam koşullarını kötü yönde etkilemeye başlamasıdır.
- B) Yeryüzündeki canlıların çoğunu etkileyerek yaşam biçimlerinin değişimine sebep olan iklim değişikliğinin en önemli nedeni, sera etkisinin yani atmosferdeki sera gazlarının miktarındaki artıştır.
- C) Yeryüzündeki canlıların tamamını etkileyerek onların yaşam biçimlerinin değişmesine neden olan iklim değişikliğinin en önemli nedeni, atmosferde sera gazlarının ani şekilde artmaya başlamasıdır.
- D) Atmosferdeki sera gazı miktarının ani şekilde artması ve bu nedenle iklimin değişmesi sonucunda yeryüzündeki canlı yaşamı tehlikeye girmeye başlamıştır.

13.I. İzlediğim belgeselde bozkır yaşamı ile ilgili bilgiler verilmişti.

II. Durakta otobüs bekleyen çocuk, düşünceli bir şekilde oturuyordu.

III. Başarılı insanlar yaptıkları hatalardan ders almalarını bilir.

IV. Neye ihtiyacın varsa tereddüt etmeden buradan alabilirsin.

Numaralanmış cümlelerin hangisinde etken, geçişsiz bir fiil vardır?

- A) I B) II C) III D) IV

14. Cumhuriyetimizin kurucusu Mustafa Kemal Atatürk, bilim ve teknolojinin çağdaş toplumların en önemli unsurlarından biri olduğunu bundan 100 yıl önce öngörmüştü.

Bu cümlenin türü ile ilgili aşağıdakilerden hangisi yanlıştır?

- A) Anlamına göre olumlu cümledir.
- B) Yüklemine göre kurallı cümledir.
- C) Yapısına göre fiilimsi bulunan cümledir.
- D) Yüklemine türüne göre isim cümlesidir.

15. Dilhan Eryurt'un çocukken en sevdiği derslerden biri matematikti. İstanbul Üniversitesi Yüksek Matematik

I

ve Astronomi Bölümünde eğitim aldı. Güneş ve diğer yıldızlar üzerine önemli araştırmalar yaptı. NASA'da

II

çalıştığı sırada insanlık ilk ay yolculuğu projesi olan

III

Apollo programına destek verdi. Güneş'in geçmişine yönelik çalışmalar yaparak o güne kadarki en kapsamlı araştırmayı ortaya koydu. Böylece Güneş'in ilk

IV

dönemlerinde daha sıcak ve parlak olduğunu, bu özelliklerinin zamanla azaldığını keşfetti.

Bu parçadaki numaralanmış sözcüklerden hangisinin yazımı yanlıştır?

- A) I B) II C) III D) IV

18.



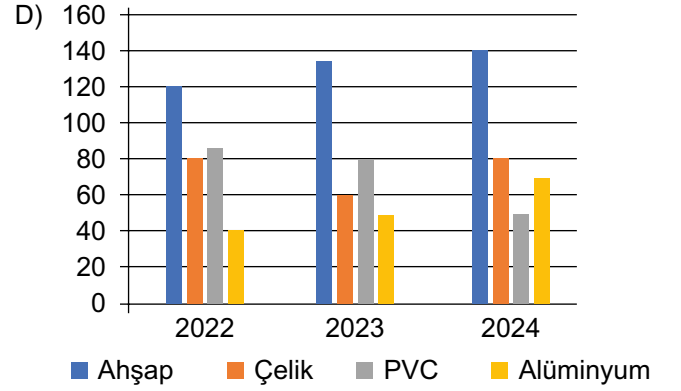
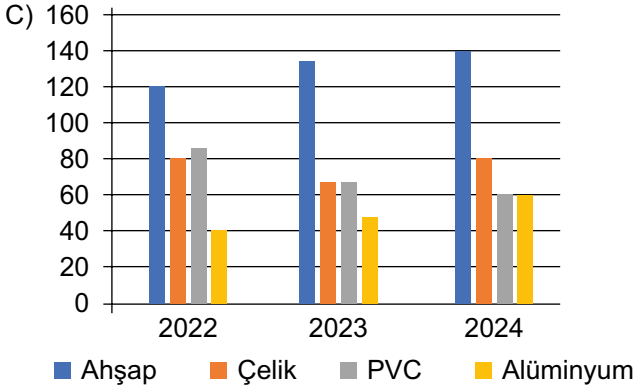
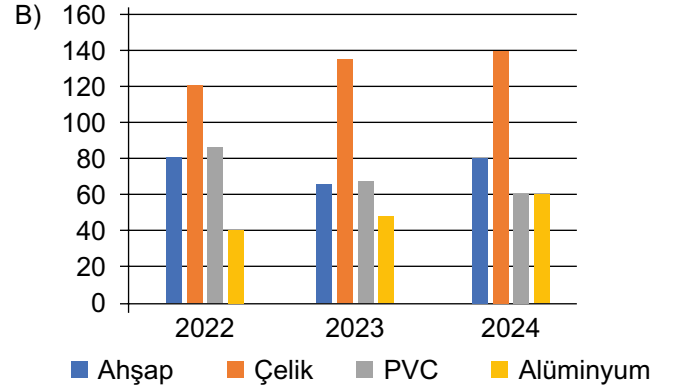
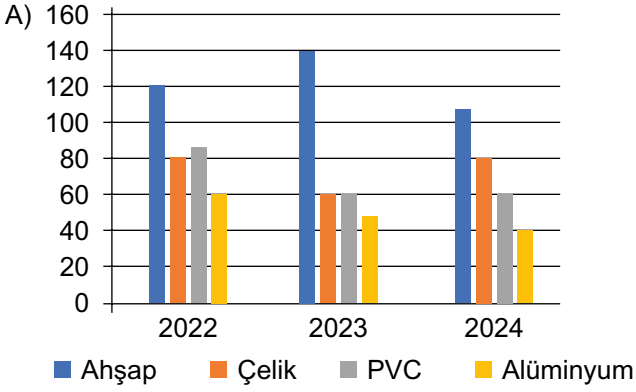
Bu infografiğe göre aşağıdakilerden hangisi söylenemez?

- A) 2017-2023 yılları arasında en fazla geri kazanılan ürün kâğıt-karton grubudur.
- B) Sıfır atığa bireylerin katkı yapmasının birden çok yolu vardır.
- C) 2023 yılındaki geri kazanım oranı, 2017 yılındakinin iki katından fazladır.
- D) Atık maddelerin tamamı geri dönüşüm ve geri kazanım için uygundur.

19. Bir kapı satıcısı olan ve ahşap, çelik, PVC ve alüminyum kapılar satan Veli Usta'nın 2022 ile 2024 yılları arasında sattığı kapılarla ilgili bilinenler şunlardır:

- ✓ Bu yıllar arasında sattığı ahşap ve alüminyum kapıların sayısı düzenli olarak artarken PVC kapıların satışları azalmıştır.
- ✓ Her yıl en fazla sattığı kapı ahşap kapı olmuştur.
- ✓ 2024 yılında kapıların iki çeşidinden aynı miktarda satış yapmıştır.

Bu bilgilere göre aşağıdakilerden hangisi Veli Usta'nın 2022-2024 yılları arası sattığı kapıları gösteren grafik olabilir?



20. Ankara, İstanbul ve İzmir şehirlerinin aylara göre su tüketimi (m³) ile ilgili bilinenler şunlardır:

- ✓ En fazla tüketim İstanbul'da, en az tüketim Ankara'da olmaktadır.
- ✓ Her üç şehrin de en çok su tükettiği ay ağustostur.
- ✓ İzmir, şubat ve aralık aylarında aynı miktarda su tüketmektedir.

Bu bilgilere göre Ankara, İstanbul ve İzmir şehirlerinin aylara göre su tüketimini gösteren tablo aşağıdaki-lerden hangisi olabilir?

A)

Şehir	Ocak	Şubat	Mart	Nisan	Mayıs	Haziran	Temmuz	Ağustos	Eylül	Ekim	Kasım	Aralık
Ankara	3.900	3.700	3.800	4.100	4.300	4.600	4.900	5.000	4.500	4.900	4.700	4.500
İstanbul	4.800	4.600	4.700	5.000	5.200	5.600	6.100	6.300	5.700	5.200	4.900	4.700
İzmir	3.600	3.400	3.500	3.700	3.900	4.100	4.500	5.000	4.200	4.200	3.900	3.700

B)

Şehir	Ocak	Şubat	Mart	Nisan	Mayıs	Haziran	Temmuz	Ağustos	Eylül	Ekim	Kasım	Aralık
Ankara	3.600	3.400	3.500	3.700	3.900	4.100	4.400	4.600	4.200	3.900	3.700	3.500
İstanbul	4.800	4.600	4.700	5.000	5.200	5.600	6.100	6.300	5.700	5.200	4.900	4.700
İzmir	3.900	4.700	3.800	4.100	4.300	4.600	4.900	5.000	4.500	4.200	3.900	3.750

C)

Şehir	Ocak	Şubat	Mart	Nisan	Mayıs	Haziran	Temmuz	Ağustos	Eylül	Ekim	Kasım	Aralık
Ankara	3.600	3.400	3.500	3.700	3.900	4.100	4.400	4.600	4.200	3.900	3.700	3.500
İstanbul	4.800	4.600	4.700	5.000	5.200	5.600	6.100	6.300	5.700	5.200	4.900	4.700
İzmir	3.900	3.700	3.800	4.100	4.300	4.600	4.900	5.000	4.500	4.200	3.900	3.700

D)

Şehir	Ocak	Şubat	Mart	Nisan	Mayıs	Haziran	Temmuz	Ağustos	Eylül	Ekim	Kasım	Aralık
Ankara	3.600	3.400	3.500	3.700	3.900	4.100	4.400	3.600	4.200	3.900	3.700	3.500
İstanbul	4.800	4.600	4.700	5.000	5.200	5.600	6.100	5.300	5.700	5.200	4.900	4.700
İzmir	3.900	3.700	3.800	4.100	4.300	4.600	4.900	4.000	4.500	4.200	3.900	3.700