

Mustafa AYGÜN

Büşra TAHİROĞLU

TÜRKÇE

LOGS

3. DENEME

ADI VE SOYADI

OKUL ADI

ADAYIN İMZASI



Denemenin cevap anahtarına QR kodu okutarak [turkcedersi.net](http://turkcedersi.net) sitemizden ulaşabilirsiniz.



## 3. DENEME

1. Bu testte Türkçe alanına ait 20 soru bulunmaktadır.
2. Cevap anahtarına ulaşmak için giriş sayfasındaki QR kodu okutabilirsiniz.

1. ✓ Doğum günü pastasını masaya bıraktıktan sonra odadan çıktı.  
✓ Hava kötü olduğu için pikniğe gitmeyi önümüzdeki haftaya bıraktık.  
✓ İnsan, bir işi yapamadığını anlayınca ehline bırakmalı.  
✓ Ünlü sanatçı, bütün mal varlığını eğitim vakıflarına bırakmış.

**Aşağıdakilerden hangisi “bırakmak” sözcüğünün bu cümlelerde kullanıldığı anlamlardan biri değildir?**

- A) Bir işi başka bir zamana ertelemek
- B) Eldeki, sırttaki bir şeyi bir yere koymak
- C) Kötü bir durumda terk etmek
- D) Sahiplik hakkını başkasına vermek

2. Atasözleri atalarımızın uzun tecrübeler ve yaşamışlıklar sonucu ortaya koyduğu öğüt veren ifadelerdir. Birbiri ile yakın anlamlı atasözleri olduğu gibi anlamca birbiri ile çelişen atasözleri de bulunmaktadır. Örneğin “Öfke ile kalkan zararlar oturur.” atasözü ile “Öfke baldan tatlıdır.” atasözleri anlamca birbiri ile çelişir. Bu atasözlerinden birisi öfkeden uzak durmayı önerirken diğeri öfkenin insanı rahatlatacağını ifade etmektedir.

**Buna göre aşağıdaki atasözlerinden hangisi anlamca diğeri ile çelişir?**

- A) Ağaç yaprağıyla gürlür.
- B) Elden gelen öğün olmaz, o da vaktinde bulunmaz.
- C) Taşıma su ile değirmen dönmez.
- D) Tırnağın varsa başını kaşı.

3. (I) Sera gazlarından biri olan karbondioksitin atmosferde artmasının en büyük nedeni günümüzde eskiye göre çok daha fazla enerji kullanımına gerek duymamız. (II) Atmosferdeki karbondioksit miktarının artmasındaki bir diğer önemli etkense ormansızlaşma yani farklı amaçlarla ormanlardaki ağaçların kesilmesi ya da yakılmasıdır. (III) Ormanlar yeryüzünün sıcaklığını dengeler, yağışları artırır, fotosentez yoluyla karbondioksiti dönüştürüp oksijen üretir. (IV) İşte ormanların yok edilmesiyle tüm bu olumlu etkiler tam tersine döner.

**Bu metinde numaralanmış cümlelerin hangisinde karşılaştırma vardır?**

- A) I
- B) II
- C) III
- D) IV

4. Herkes toplumdaki saygısızlıktan, kuralsızlıktan, bencillikten şikâyet ediyor. Ancak kimse kendi davranışlarını sorgulamıyor. Herkes başkasından değişimin bir parçası olmasını bekliyor. Oysa unuttukları şey şu: Toplum dediğimiz yapı, tek tek bireylerden oluşur. Bir toplumun ilerlemesi, bireylerinin kendini geliştirmesiyle mümkün olur.

**Aşağıdakilerden hangisi bu metindeki altı çizili cümleye anlamca en yakındır?**

- A) Güçlü toplumlar tüm bireylerine gerekli eğitimleri vermelidir.
- B) İnsanlar kendilerinden önce toplumun gelişmesi için çalışmalıdır.
- C) Bireyler, her toplumda kendilerini geliştirebilecek imkânı bulamayabilir.
- D) Toplumsal değişim, en temelde bireysel dönüşümle başlar.

5. (I) Uzun zamandır görmediğim arkadaşımın parkta oynamaya çıktığı için çok mutluydum. (II) Tüm gün yüzümde kocaman bir gülümsemeyle dolaşmışım. (III) Akşam evdeyken bugün çektiğimiz fotoğraflara tek tek baktım. (IV) Hepsinde gözlerim kısık çıkmıştı çünkü gülümsemeden duramamıştım.

**Bu metinde numaralanmış cümlelerin hangisinde birden fazla fiilimsi vardır?**

- A) I                      B) II                      C) III                      D) IV

6. İş kollarındaki yapay zekâ destekli otomasyon sistemleri, rutin görevleri hızla devralmaktadır. Bu durum ise iş gücü piyasasında yapay zekâ ve buna bağlı sistemlerden anlamak gibi yeni becerilere duyulan ihtiyacı artırmıştır. Teknolojik dönüşümden en az zararlı çıkarmak isteyen çalışanlar; veri analizi, eleştirel düşünme ve yaratıcı problem çözme gibi alanlarda kendilerini geliştirmelidir. Böylece insanlar makinelerle rekabet etmek yerine onlarla iş birliği yaparak hem kendilerinin hem de makinelerin üretkenliğini artırabilir.

**Bu metinde anlatılmak istenen düşünce aşağıdakilerin hangisinde verilmiştir?**

- A) İlerleyen yıllarda yapay zekâyâ dayalı sistemlerin tüm meslekleri ortadan kaldırması beklenmektedir.  
B) Rutin işlerde hataları en aza indirmek için insan yerine makineleri kullanmak daha mantıklıdır.  
C) Gelecekte iş dünyasında yalnızca yazılım konusunda iyi olan kişiler kendilerine yer bulacaktır.  
D) Yapay zekâ çağında başarılı olmak için yeni beceriler edinip makinelerle iş birliği yapmak gerekir.

7. Sabahları erken kalkmak çoğu insana zor gelse de aslında bedensel ve zihinsel yönden pek çok faydası olan bir davranıştır. Bu durum, günün daha verimli geçmesini sağlar. Erken uyanan bireyler, zihinsel olarak daha dinç olur ve güne planlı başlama şansı elde eder. Ayrıca sabah saatlerinde dikkat ve odaklanma seviyesi daha yüksektir. Bu da öğrenme, çalışma ve üretkenlik açısından önemli bir avantaj sağlar.

**Bu metinden aşağıdakilerden hangisi çıkarılmaz?**

- A) Sabahları erken kalkmak için akşam erken yatmak gerekir.  
B) Erken kalkmak günün verimli geçmesini kolaylaştırır.  
C) Erken uyanan kişiler kendilerini daha dinç hissedebilirler.  
D) İnsanların dikkat ve odaklanma süresi sabahları daha yüksektir.

8. İnsanlara doğru davranışı sadece sözle anlatmak çoğu zaman yeterli olmaz. Çünkü söylenen şeyler kolayca unutulabilir ya da etkisini yitirebilir. Oysa davranışlarımız, sözlerimizden çok daha güçlü bir mesaj taşır. Bir çocuk, ona sürekli "Dürüst ol." denmesinden çok çevresindeki insanların dürüst davrandığını gördüğünde dürüstlüğün değerini öğrenir. Benzer şekilde başkalarına saygı göstermenin önemini uzun uzun anlatmak yerine insanlara karşı saygılı davranmak çok daha öğretici olur. Kısacası doğru davranış konusunda örnek olmak, öğüt vermektense çok daha etkili ve kalıcıdır.

**Bu parça aşağıdaki metin türlerinden hangisine örnek olabilir?**

- A) Destan                      B) Makale  
C) Roman                      D) Deneme

9. (I) Bir konu üzerine tüm dikkatimizi toplayarak odaklanabilmemiz ve dış uyaranlardan etkilenmeden odağımızı sürdürebilmemiz zihinsel bir beceridir. (II) Bu aynı zamanda kendimizi disipline etmemizi, bir konuyu öğrenmemizi ve o konuda başarılı olmamızı sağlayan en önemli etkenlerden biridir. (III) Dikkatimizi toplayıp odaklanabilmek yalnızca derslerimizde değil, sosyal yaşantımızdaki pek çok konuda da işimize yarar. (IV) Bilim insanları, kişilerin ortalama odaklanma sürelerini araştırdıklarında odaklanma süresinin yaşla birlikte arttığını gözlemlemişler. (V) Örneğin 2 yaşındaki bir çocuk yaklaşık 6 dakika boyunca bir konuya odaklanabilirken 16 yaşındaki bir gençte bu süre 48 dakikaya kadar uzayabiliyor.

**Bu parça iki paragrafa ayrılmak istense ikinci paragraf numaralanmış cümlelerden hangisiyle başlar?**

- A) II      B) III      C) IV      D) V

10. Yapılan araştırmalara göre Türkiye’de kişi başı yıllık ortalama 150 kilogram ekmek israf ediliyor. Bu miktar, yılda yaklaşık 10 milyar TL’lik bir ekonomik kayba yol açıyor. Tarım ve Orman Bakanlığının raporuna göre ekmek israfı sadece ekonomik değil, aynı zamanda çevresel bir tehdit oluşturuyor. Bu israf farklı noktalarda karşımıza çıkıyor. Örneğin ekmek yapımında kullanılan un, su, enerji ve emek de bu israfla boşa gitmiş oluyor. Avrupa ülkelerinde ise bu israf oranı çok daha düşük örneğin Almanya’da kişi başına yıllık ekmek israfı 60 kilogram civarında. Bu fark, toplumların bilinçli tüketim alışkanlıklarının ne denli önemli olduğunu gösteriyor.

**Bu metinde aşağıdaki düşünceleri geliştirme yollarından hangisi yoktur?**

- A) Sayısal verilerden yararlanma  
B) Tanımlama  
C) Örneklendirme  
D) Karşılaştırma

11.I. Başını çevirdi, burada niçin bulunduğunu anlamak için düşündü, baktı, o zaman aklına geldi. Arkadaşları kuşkusuz orada, işte şuracıktan bir parçasını gördüğü bahçenin kalabalığı arasında olacaktı.

II. Radyoda müzik vardı; kopuzla çalınan, bildiğim bir türkü yayımlanıyordu. Bu türküyü ne zaman işitsem akşamüzeri bozkırda ilerleyen yalnız bir atlı gelir gözümün önüne. Uzun yolculuklarda insan neler düşünmez ki?

III. Artık gün bayağı aydınlandı, şimdi aynı işleri yapma sırası Jülide’ye geldi. Özenle işe koyuluyor, camdan havanın iyi olup olmadığına bakıyor, suyun ısısını ayarlıyor, ardından yemek için ocağı yakıyordu.

IV. Bu adam; cimriliğinden şimdiye kadar bir hizmetçi, bir çirak tutamamıştı. Koca Ali’yi eline geçirince hemen dükkânının köşesine bir set yerleştirdi. Üstüne bir şilte koydu. Geçti, oraya oturdu. Her şeyi ona yaptırmaya başladı.

**Numaralanmış metinlerin hangisinde anlatıcı türü diğerlerinden farklıdır?**

- A) I      B) II      C) III      D) IV

12. Bir şeyi yapamadığım zaman çok sinirlenirim. Geçen gün futbol oynarken de bir türlü gol atamıyordum. Peş peşe bir sürü pozisyonu harcıyordum. Bu da beni iyice öfkeliyordu. Arkadaşım Barış bana şaka yollu laflar etti. Maçın da verdiği stres ile ona çok kırıcı, çok kötü şeyler söyledim. Arkadaşım çok üzüldü. Sonrasında ben de onunla şakalaşmak istedim ama bana pas vermedi. İki gündür aklıma geldikçe kötü oluyorum. Keşke arkadaşım böyle davranmasaydım.

**Bu metinde anlatıcının hissettiği duygular arasında aşağıdakilerden hangisi yoktur?**

- A) Pişmanlık      B) Kızgınlık  
C) Üzüntü      D) Özlem

13.(I) Atatürk, iyi bir asker olmasının yanında öğretici yönü de olan bir liderdi. (II) Atatürk, 1937 yılında Sivas Lisesinde bir geometri dersini ziyaret etti. (III) Burada öğrencilerin bazı terimleri telaffuz etmekte güçlük çektiğini gözlemledi. (IV) Bunun üzerine tahtanın başına geçti ve temel geometrik kavramları öğrencilere Türkçe terimler kullanarak anlattı.

**Bu metinde numaralanmış cümlelerin hangisinde nesne yoktur?**

- A) I                      B) II                      C) III                      D) IV

14.Önümüzdeki on yılın elektrikli otomobillerin altın çağının başlangıcı olacağı düşünüyor. Birçok

I

otomobil firması elektrikli araç üretimiyle ilgili iddialı hedefler açıklıyor.

II

**Bu metinde numaralanmış fiillerin çatısı ile ilgili aşağıdakilerin hangisi doğrudur?**

- A) I numaralı fiil öznesine göre etken, nesnesine göre geçişlidir.  
 B) II numaralı fiil öznesine göre etken, nesnesine göre geçişsizdir.  
 C) I numaralı fiil öznesine göre edilgen, nesnesine göre geçişsizdir.  
 D) II numaralı fiil öznesine göre edilgen, nesnesine göre geçişlidir.

15.(I) Bugün inkılap tarihi dersinde öğretmenimiz TBMM'nin açılış sürecini ayrıntılı bir şekilde anlattı. (II) Ardından fen dersinde, deneyde kullandığımız sıvının miktarını ml. cinsinden ölçtük. (III) Okuldan sonra Alm. kursuna gittim. (IV) Kurstan çıkınca babamla beraber kontrol için Dr. Tuğrul Bey'in muayenehanesine gittim.

**Bu metinde numaralanmış cümlelerin hangisinde kısaltmaların yazımı ile ilgili yanlışlık yapılmıştır?**

- A) I                      B) II                      C) III                      D) IV

16.İnsanlar ( ) bir bilgeye zehrin ne olduğunu sormuşlar ( ) Bilge şöyle demiş ( ) İhtiyacımızdan fazla olan her şey zehirdir. Fazla güç, fazla dinlenmek, fazla yiyecek, fazla korku, fazla öfke, fazla sakinlik, fazla neşe ( )

**Bu parçada yay ayrıçla gösterilen yerlere sırasıyla aşağıdaki noktalama işaretlerinden hangileri gelmelidir?**

- A) (;) (.) (: ) (.)                      B) (,) (.) (: ) (...)  
 C) (,) (?) (: ) (...)  
 D) (,) (.) (;) (.)

- 17.I. Balalayka, Rusya'nın geleneksel bir çalgısıdır ve genellikle üç tellidir. Üçgen şeklinde bir gövdesi ve uzun bir sapı vardır. Göbek kısmında yuvarlak bir ses deliği yer alır. Balalayka hem parmakla hem de pena ile çalınır.
- II. Koto, Japonya'ya özgü uzun ve zarif telli bir çalgıdır. Yaklaşık iki metre uzunluğunda olan gövdesi genellikle Paulownia ağacından yapılır ve içi boş yapısıyla güçlü bir yankı verir. Geleneksel olanlarda 13, modern türlerinde ise daha fazla tel bulunur. Çalgıcı, sağ eline taktığı özel tırnak benzeri penalarla telleri çekerek kotoyu çalar. Kotonun sapı yoktur, iki tarafı da birbirine benzer.
- III. Sitar, geleneksel Hindistan müziğinde en çok kullanılan telli çalgılardan biridir. Gövdesi genellikle büyük, yuvarlak ve oyulmuş bir kabakla yapılır. Uzun saplı bir yapıya sahip olan enstrümanın 18 ile 21 arasında değişen sayıda teli vardır. Sapında hem perde bağları hem de süslemeler bulunur. Büyük olan ana gövde (kabak) dışında, uzun sapın arkasına da bazen ikinci daha küçük bir kabak yerleştirilir.

Aşağıdakilerin hangisi bu metinlerde anlatılan müzik aletlerinden biri değildir?

A)



B)



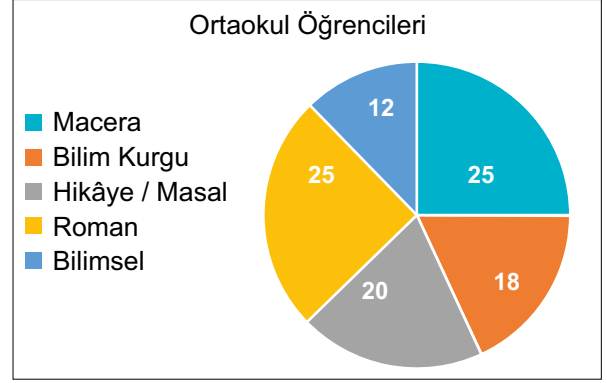
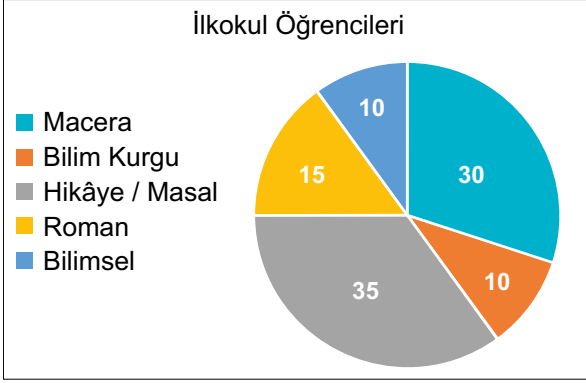
C)



D)



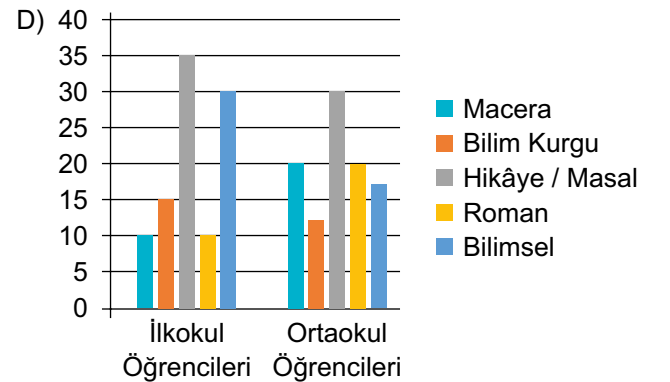
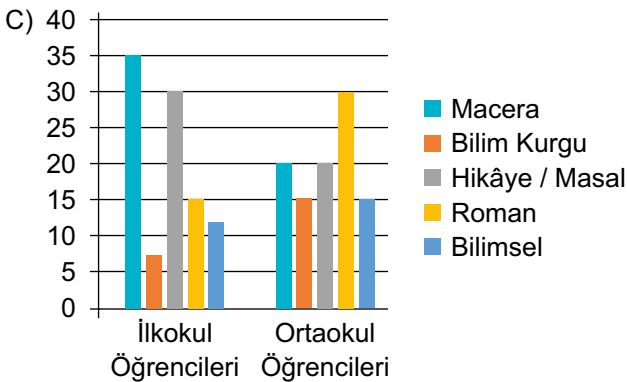
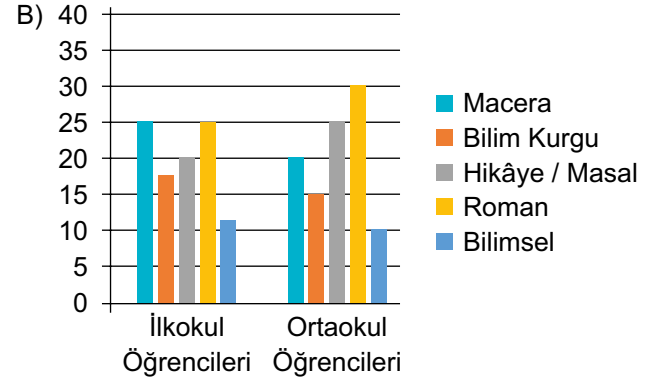
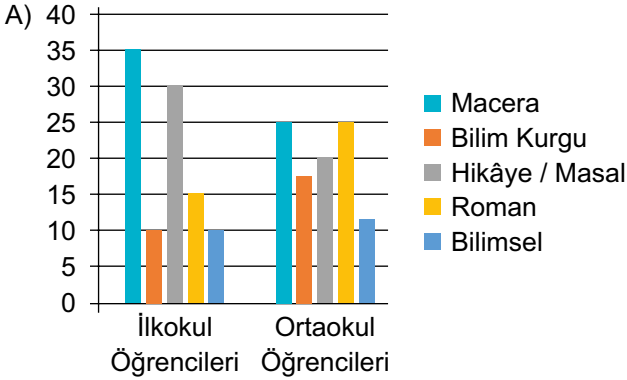
18. Aşağıdaki pasta grafiklerde 2024 yılında ilkököl ve ortaokul öğrencilerinin ilgi duydukları kitap türleri (%) gösterilmiştir.



2025 yılına gelindiğinde bu oranlarda aşağıdaki değişiklikler olmuştur:

- ✓ İlkokul öğrencileri en çok macera kitaplarına, en az bilim kurgu kitaplarına ilgi duymaya başlamıştır.
- ✓ Ortaokul öğrencilerinde romana ilgi duyanların oranı artarken macera kitaplarına ilgi duyanların oranı azalmıştır.
- ✓ Her iki grupta da bilimsel kitaplara olan ilgi artmıştır.

**Bu bilgilerden hareketle ilkököl ve ortaokul öğrencilerinin 2025 yılında ilgi duydukları kitap türünü gösteren grafik aşağıdakilerden hangisi olabilir?**



19. Aşağıdaki tabloda üç ortaokulda aylara göre dönüşüm için ayrılan atık miktarı (kg) gösterilmiştir.

Ay	Atatürk Ortaokulu				100. Yıl Ortaokulu				Cumhuriyet Ortaokulu			
	Kâğıt	Plastik	Cam	Metal	Kâğıt	Plastik	Cam	Metal	Kâğıt	Plastik	Cam	Metal
Eylül	50	30	25	15	40	25	20	15	35	25	20	10
Ekim	60	40	30	20	50	35	25	20	45	35	25	15
Kasım	70	50	40	20	60	45	35	20	55	40	30	15
Aralık	80	60	45	15	70	55	40	15	65	50	40	15
Ocak	85	65	45	15	75	60	40	15	70	55	45	10
Şubat	90	70	50	10	80	65	45	10	75	60	50	5
Mart	95	75	50	10	85	70	45	10	80	65	50	5
Nisan	100	80	50	10	90	75	45	10	85	70	50	5
Mayıs	105	85	50	10	95	80	45	10	90	75	50	5
Haziran	110	90	50	10	100	85	45	10	95	80	50	5

**Tabloya göre,**

- I. Okulların kâğıt ve metal atık miktarları düzenli olarak artmıştır.
- II. Üç okulda da geri dönüşüm için en fazla kâğıt atık ayrılmıştır.
- III. Yıl boyu toplamda Cumhuriyet Ortaokulu, 100. Yıl Ortaokulundan daha fazla metal atık ayırmıştır.
- IV. Atatürk Ortaokulunun şubatta ayırdığı plastik atık miktarı, Cumhuriyet Ortaokulunun aralıkta ayırdığı kâğıt atık miktarından fazladır.

**numaralanmış ifadelerden hangileri doğrudur?**

A) I ve II

B) I ve III

C) II ve IV

D) III ve IV

20. Bir kütüphane rafına soldan sağa iki roman, iki çocuk kitabı, bir şiir kitabı, bir tarih kitabı, bir sanat kitabı ve bir biyografi kitabı dizilecektir. Bu kitapların buldukları yerler ile ilgili bilinenler şunlardır:

- ✓ Aynı türden kitaplar yan yana gelmektedir.
- ✓ Tarih kitabının hemen sağında roman, hemen solunda şiir kitabı bulunmaktadır.
- ✓ Biyografi kitabı dördüncü sıradadır.
- ✓ En başta sanat kitabı bulunmaktadır.

**Bu bilgilere göre kitapların yeri ile ilgili aşağıdakilerden hangisi yanlıştır?**

- A) Çocuk kitaplarının solunda sanat kitabı vardır.
- B) Biyografi kitabı ile şiir kitabı yan yanadır.
- C) En son sırada roman bulunmaktadır.
- D) Tarih kitabı beşinci sıradadır.