






1. Dört arkadaş emojiplerin anlamlarını açıklamıştır:

- Ümmügülsüm'ün kullandığı emojiplerin anlamı: İnsanın kalbini ısıtan bir tebessüm! Neşeli, samimi ve genellikle mutluluğu ifade eder.
- Canan'ın kullandığı emojiplerin anlamı: Bu emoji, her şeyin harika olduğunu göstermek için baş parmak işaretiyle bir onay verir.
- Ercan'ın kullandığı emojiplerin anlamı: Üzgün, hayal kırıklığına uğramış bir yüzdür. Düşük kaşlar ve ağzı aşağı dönük yapısıyla kederi ifade eder.
- Erhan'ın kullandığı emojiplerin anlamı: Kahkaha atan bir yüz! Bu emoji, gülmekten gözleri yaşarana kadar eğlenildiğini gösterir.

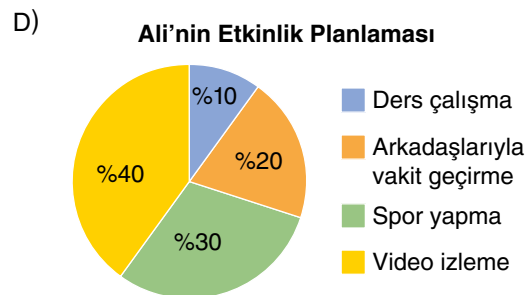
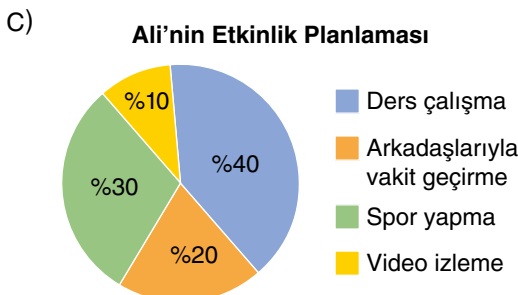
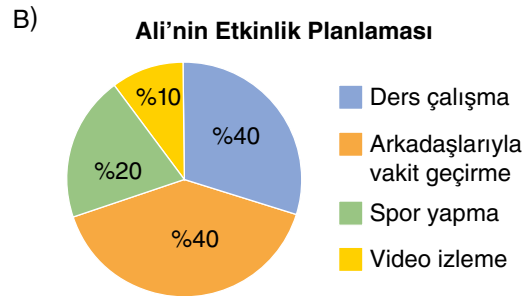
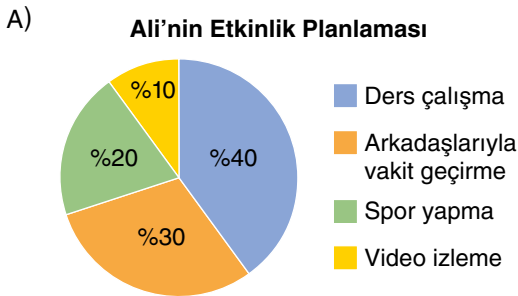
Aşağıda yer alan emojiplerden hangileri bu arkadaşların sırasıyla anlattıkları emojiplerdir?



2. Ali, hafta içi bir gününü çeşitli etkinliklere ayırmıştır. Bu etkinliklerin detayları şöyledir:

- Gününün çoğunu ders çalışarak geçirecektir.
- Arkadaşlarıyla vakit geçirmeye spordan daha fazla zaman ayıracaktır.
- En az zamanı ise video izlemeye ayıracaktır.

Ali'nin gününe dair aşağıdaki grafiklerden hangisi doğruyu gösterir?



3. "Türkiye'nin Tarihî Güzellikleri" konulu bir ödev veren Esra öğretmen, öğrencilerinden kullanacakları görselleri kendisine göstermelerini istemiştir.



Bu ödevi hazırlayacak olan öğrencilerden hangisinin görseli bu ödev için uygun değildir?

- A) Ahmet B) Hilal C) Hande D) Ünal

4. Aşağıda 6/A sınıfının oturma planının krokisi verilmiştir.



Bu krokiyi incelediğimizde aşağıdaki yorumlardan hangisi yapılamaz?

- A) Kızların sayısı erkeklerin sayısından fazladır.
B) Fatma ve Yasemin pencere kenarında oturmaktadır.
C) Öğretmen masasına en yakın oturan öğrenci Bartu'dur.
D) 6/A sınıfında toplam otuz öğrenci vardır.

5. "Ahşap bir üçgen çatılı ev, doğanın içinde modern ve zarif bir duruş sergiliyor. Beton ayaklar üzerine yükseltilmiş olan yapı, zemine doğrudan temas etmeden doğal çevresiyle uyum sağlıyor. Geniş cam pencereler ve önündeki ahşap korkuluklarla çevrili veranda, evin dış mekânla olan bağlantısını güçlendiriyor. Çam ağaçlarıyla çevrili bu alan, geniş bir çim örtüsü üzerinde huzur verici bir atmosfer yaratıyor."

Bu metinde tasvir edilen evin görseli aşağıdakilerden hangisi olabilir?

