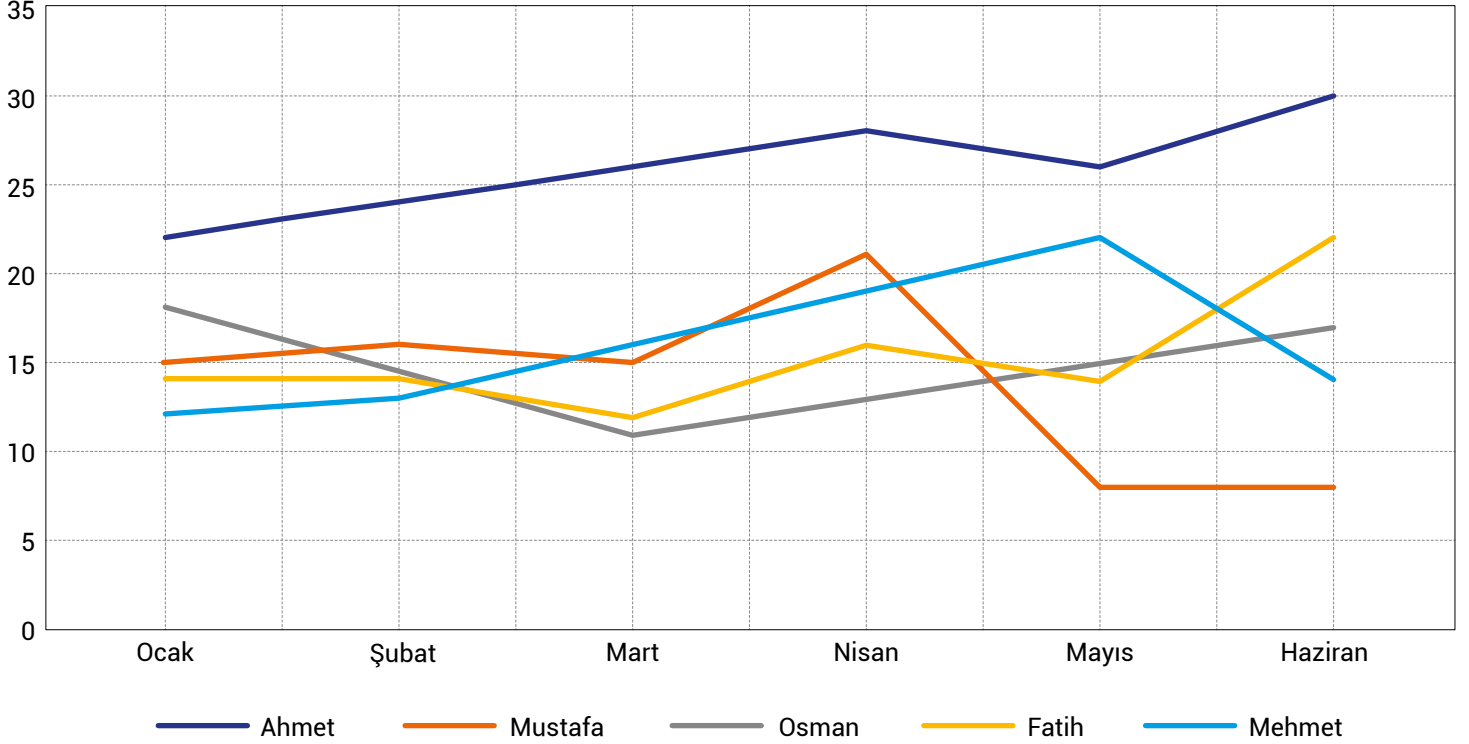




## ETKİNLİK 1: Grafik Yorumlama

Aşağıdaki grafikte beş arkadaşın 2024 yılının ilk altı ayında tuttukları balık sayıları verilmiştir.

Tutulan Balık Sayısı



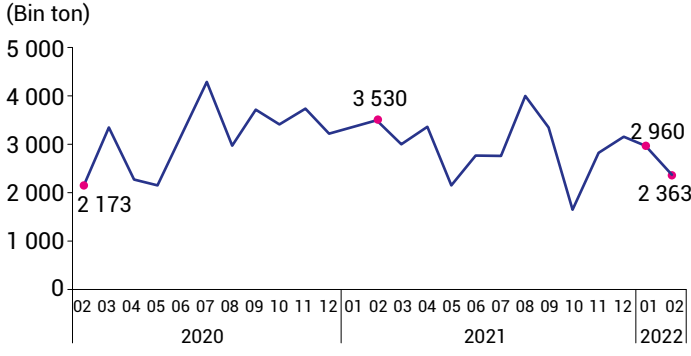
Grafikten hareketle aşağıdaki boşlukları doldurunuz.

1.	Tüm aylarda en fazla balığı tutan kişi ..... olmuştur.
2.	Son iki ayda eşit sayıda balık tutan kişi ..... olmuştur.
3.	Verilen ayların ikisinde eşit sayıda balık tutan kişiler ..... ve ..... olmuştur.
4.	Tuttuğu balık sayısı aylar arasında bir kez düşen kişiler ..... ve ..... olmuştur.
5.	Tuttuğu balık sayısı aylar arasında dört kez yükselen kişiler ..... ve ..... olmuştur.
6.	Aylar arasında eşit sayıda balık tutmayan kişiler ..... ve ..... olmuştur.
7.	Aylar arasında en fazla eşit sayıda balık tutan kişi ..... olmuştur.
8.	Toplamda en fazla balık tutan kişi ....., en az balık tutan kişi ..... olmuştur.
9.	En fazla balık tutulan ay ..... ayı olmuştur.

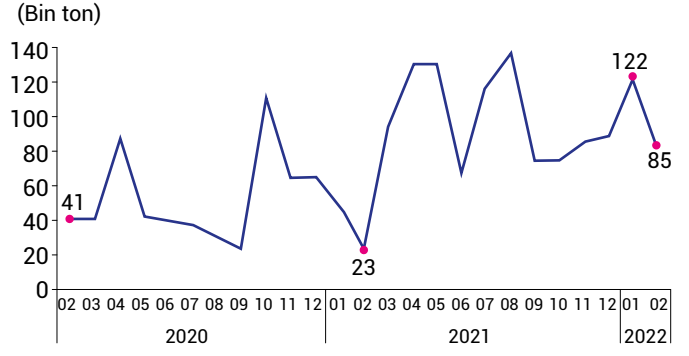
## ETKİNLİK 2: Grafik Yorumlama

Aşağıdaki grafiklerde ülkemizdeki taş kömürü ve taş kömürü koku ithalat bilgileri verilmiştir.

Taşkömürü ithalatı, Şubat 2020-Şubat2022



Taşkömürü koku ithalatı, Şubat 2020-Şubat2022

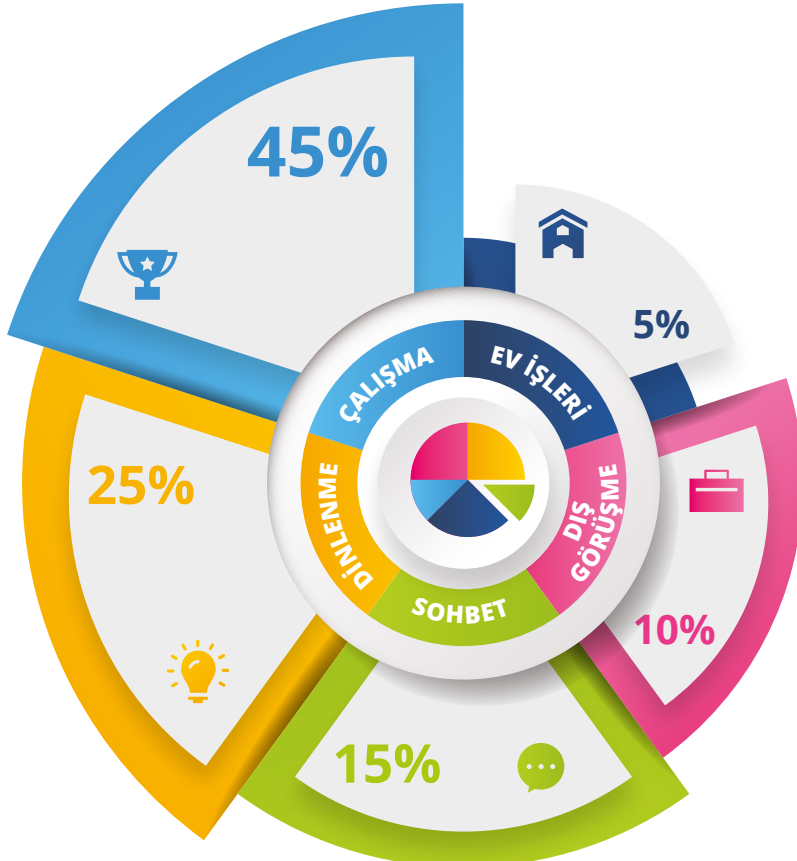


Aşağıdaki yargılardan bu grafikten hareketle ulaşılabılır olanlarını işaretleyiniz.

1.	Bazı aylarda taş kömürü koku ithalat miktarı taş kömürü ithalat miktarının üzerine çıkmıştır.	<input type="checkbox"/>
2.	En yüksek taş kömürü ithalatı ve en yüksek taş kömürü koku ithalatı aynı yılın aynı ayında gerçekleşmiştir.	<input type="checkbox"/>
3.	Her iki ürünün de 2022 Şubat ayında ithalat miktarı düşmüştür.	<input type="checkbox"/>
4.	Her iki üründe de en düşük ithalat oranı aynı ayda gerçekleşmiştir.	<input type="checkbox"/>
5.	Taş kömürü ithalatı hiçbir ayda art arda iki defa eşit miktarda gerçekleşmemiştir.	<input type="checkbox"/>
6.	Taş kömürü koku ithalatı art arda gelen bazı aylarda birbirine yakın gerçekleşmiştir.	<input type="checkbox"/>

## ETKİNLİK 3: Grafik Yorumlama

Aşağıdaki grafikte bir kişinin günlük zamanını nasıl değerlendirdiği ile ilgili bilgiler verilmiştir.



Bu grafikten ulaşılabilecek yargıları işaretleyin.

1.	Zamanını en çok işte en az evde geçirmektedir.	<input type="checkbox"/>
2.	Dinlenmeye ayırdığı zaman çalışmaya ayırdığı zamanın yarısından fazladır	<input type="checkbox"/>
3.	Dış görüşmeler için ev işlerinin iki katı zaman harcamaktadır.	<input type="checkbox"/>
4.	Sohbet zamanı günden güne değişmektedir.	<input type="checkbox"/>
5.	Dış görüşme ve sohbetin toplam zamanı dinlenmeden fazladır.	<input type="checkbox"/>