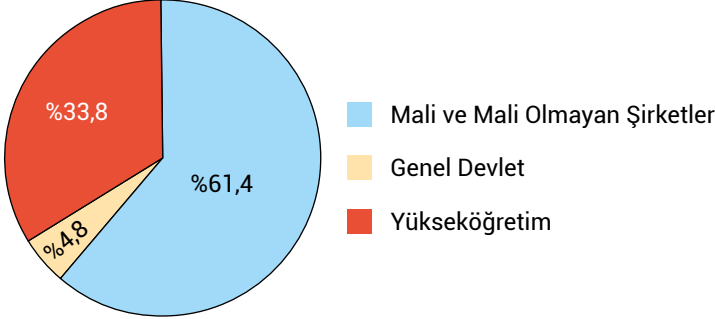


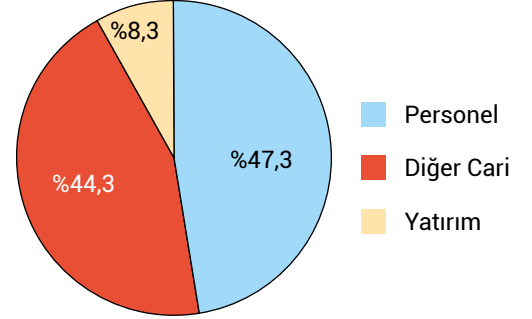
**ETKİNLİK 1: Grafik Yorumlama**

Bu grafiklerden ulaşılabilecek yargıların karşısındaki kutucukları "✓", ulaşılamayacak yargıların karşısındaki kutucukları "X" işaretiyle işaretleyiniz.

Sektörlere Göre Ar-Ge Harcaması



Harcama Gruplarına Göre Ar-Ge Harcaması

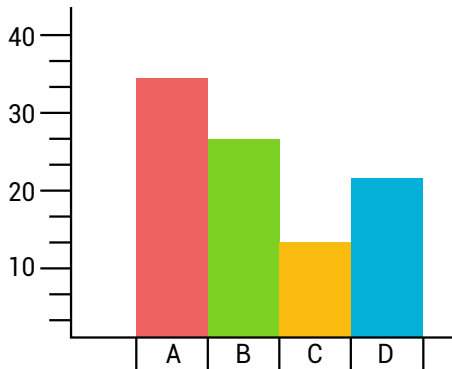
**Cümleler**

1. Sektör bazında en yüksek harcamayı mali ve mali olmayan şirketler yapmıştır.	<input type="checkbox"/>
2. Harcama gruplarına göre yapılan harcamalarda en az harcama yatırım için yapılan AR-GE çalışmalarına yapılmıştır.	<input type="checkbox"/>
3. Genel devlet AR-GE harcamaları kendi kategorisinde en son sıradadır.	<input type="checkbox"/>
4. Diğer cari harcamalar için yapılan AR-GE çalışmaları kendi kategorisinde en üst sıradadır.	<input type="checkbox"/>
5. Harcama gruplarına göre yapılan AR-GE harcamaları, sektörlere göre yapılan AR-GE harcamalarından fazladır.	<input type="checkbox"/>
6. Yükseköğretimdeki AR-GE çalışmalarının harcamaları diğer sektörlerin AR-GE harcamasından fazladır.	<input type="checkbox"/>

ETKİNLİK 2: Grafik Yorumlama

Aşağıda bir öğrencinin yılın ilk dört ayında okuduğu kitap sayısını gösteren bir sütun grafik ve aynı verileri gösteren bir pasta grafik verilmiştir.

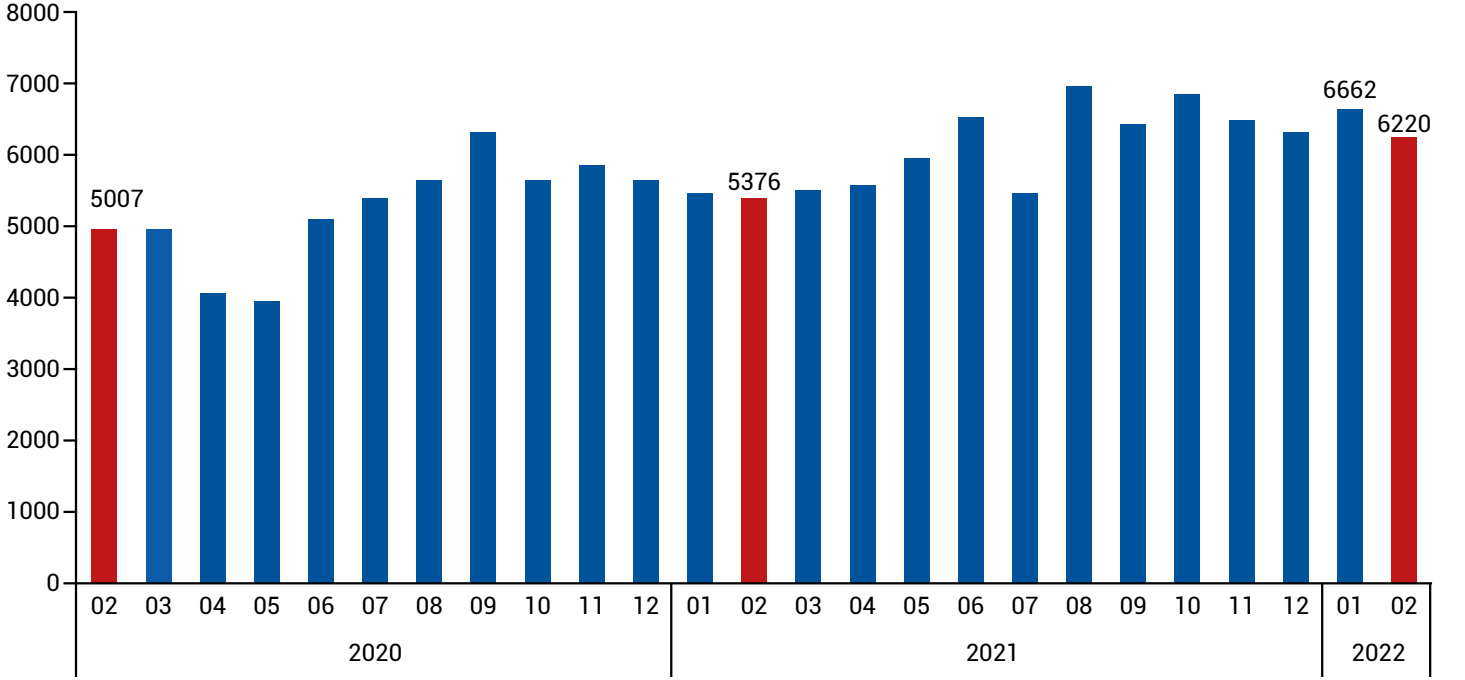
Sütun grafikteki verilerin pasta grafiğe aktarılması istendiğinde sütun grafikteki hangi renkli sütunun pasta grafikteki hangi renkli bölüme denk gelmesi gerektiğini aşağıda verilen uygun yerlere yazınız.



ETKİNLİK 3: Grafik Yorumlama

Aşağıdaki grafikte Şubat 2020 ile Şubat 2022 arasında ülkemizdeki linyit üretim miktarları verilmiştir.

Aşağıda verilen yargılardan bu grafiğe göre ulaşılabilecek olanların karşısındaki kutuyu "✓" işaretiyle işaretleyiniz.



Cümleler

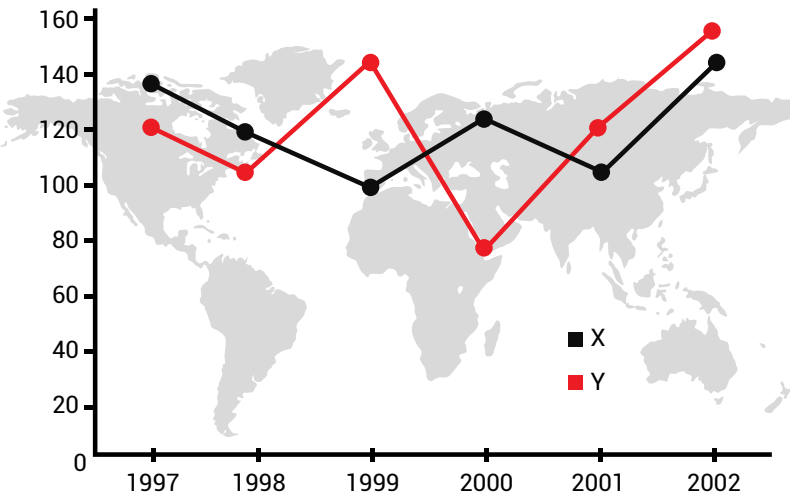
1. En yüksek linyit üretimi 2022 yılında yapılmıştır.
2. 2021 yılının tüm aylarındaki linyit üretimi 2020'nin aylarından fazladır.
3. En düşük üretim 2020 Mayıs ayında gerçekleşmiştir.
4. 2022 yılında linyit üretimi sürekli olarak artmıştır.
5. 2020 yılında linyit üretiminde 4. ayda düşüş görülmektedir.
6. 2021 yılında altı ayda linyit üretiminde yükseliş görülmektedir.

<input type="checkbox"/>
<input type="checkbox"/>
<input type="checkbox"/>
<input type="checkbox"/>
<input type="checkbox"/>
<input type="checkbox"/>

ETKİNLİK 4: Grafik Yorumlama

Aşağıdaki grafikte iki farklı internet tarayıcısının verilen yıllarda kullanıcı sayıları verilmiştir.

Bu grafikten ulaşılabilecek yargıların karşılarını işaretleyiniz.



Cümleler

1. En yüksek kullanıcı sayısına ulaşan internet tarayıcısı X'tir.
2. En düşük ve en yüksek kullanıcı sayısına sahip olan Y'dir.
3. X tarayıcısı tüm yıllarda Y tarayıcısından fazla kullanıcı sayısına sahiptir.
4. İki tarayıcı da kullanıcı sayısında 70 milyonun altına düşmemiştir.
5. Tarayıcılardan en fazla kâr elde eden Y tarayıcısı olmuştur.

<input type="checkbox"/>
<input type="checkbox"/>
<input type="checkbox"/>
<input type="checkbox"/>
<input type="checkbox"/>